

# TESTE DE ATUALIDADES

**01.** Em outubro de 2009, 830 milhões de pessoas acessaram as chamadas redes sociais ou de relacionamento na internet. Dez redes concentram a maioria dos visitantes em todo o mundo, sendo mais da metade nas gigantes Facebook e Windows Live. O Orkut, do Google, está em primeiro lugar nas preferências de usuários no Brasil e na Índia, talvez em função da simplicidade do site, que pode ser acessado em locais com internet mais lenta. Em muitos países, sutilezas linguísticas e culturais tornam as redes nativas mais atraentes que as estrangeiras – como o Baidu Space (China), o VKontakte (Rússia) e o Mixi (Japão), muito acessados nos respectivos países.

Fonte: Revista National Geographic Brasil, edição nº 120, março 2010, pág. 18 (com adaptações).

A partir das informações disponíveis no texto, conclui-se que as redes sociais em questão:

- a. Eliminaram os contatos em copresença, hoje substituídos por interações sociais a distância.
- b. Criaram coesão social entre usuários do mesmo país, mas eliminaram os contatos na escala do mundo.
- c. Apesar dos avanços tecnológicos, elas estão ausentes dos chamados países pobres ou em desenvolvimento.
- d. Têm alcance global, permitindo também o estabelecimento de interações sociais em escala nacional.

**02.** Leia os artigos a seguir da Declaração Universal dos Direitos Humanos proclamada pela Assembleia Geral das Nações Unidas, de 1948.

Artigo 1º. Todas as pessoas nascem livres;

Artigo 4º. Ninguém será mantido em escravidão;

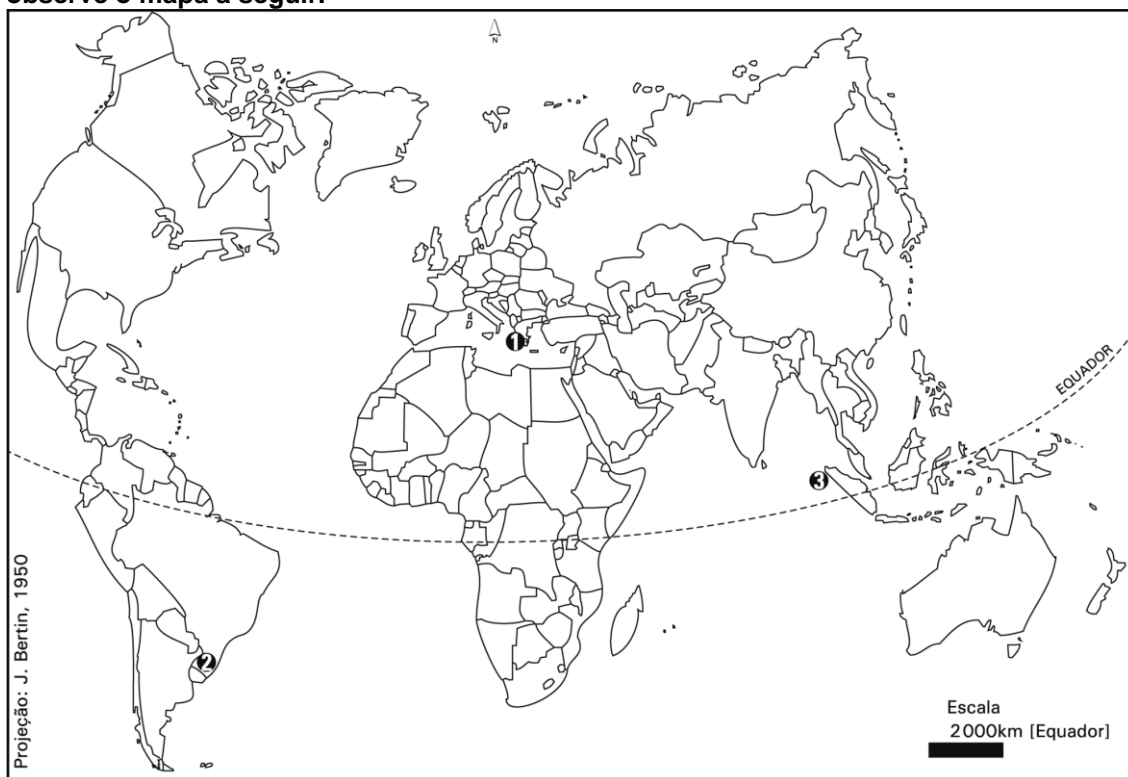
Artigo 5º. Toda pessoa tem direito à liberdade de pensamento, consciência e religião.

Fonte: Revista National Geographic Brasil, edição nº 105, dezembro 2008, pág. 36.

Indique em qual desses momentos da história foram também defendidos os direitos presentes na Declaração:

- a. Ditadura Militar no Brasil (1964-1985).
- b. Revolução Francesa (1789-1799).
- c. Independência do Brasil (1822).
- d. Segunda Guerra Mundial (1939-1945).

**03.** Acontecimentos nos últimos anos mostram que nenhuma região do planeta está a salvo de catástrofes naturais e respectivos efeitos sociais. Segundo a ONU, como tais eventos não podem ser evitados, é necessário preparar-se para eles, por exemplo, reduzindo a pobreza ou a vulnerabilidade das populações. Sobre esses acontecimentos, observe o mapa a seguir.



Fonte: Revista National Geographic Brasil, edição nº 95, fevereiro 2008, pág. 18.

**As ocorrências retratadas nas áreas 1, 2 e 3 referem-se, respectivamente, a:**

- Fortes ondas de calor – fortes chuvas e inundações – tremores seguidos de tsunamis.
- Terremotos – furacões, ciclones ou tempestades – fortes ondas de calor.
- Tremores seguidos de tsunamis – estiagem prolongada – fortes ondas de calor.
- Fortes chuvas e inundações – invernos rigorosos com nevascas – terremotos.

**04.** Dados do Ministério do Meio Ambiente coletados entre 2002 e 2008 e divulgados em fevereiro de 2010 mostram que metade da cobertura vegetal da caatinga, considerada o único bioma exclusivamente brasileiro, está devastada. Em 2008, os remanescentes somavam 53,6%; no período do levantamento, foram devastados 16,5 mil km<sup>2</sup>, que equivalem a 2% de toda a caatinga. Os municípios que mais desmataram situam-se nos estados do Ceará (Acopiara e Tauá) e Bahia (Bom Jesus da Lapa e Campo Formoso).

Fonte: Baseado em Planeta Sustentável. Metade da caatinga está devastada, 2/2/2010. Disponível em: <http://planetasustentavel.abril.com.br/noticia/ambiente/caatinga-metade-devastada-537181.shtml>

**Contribuem para reverter o quadro descrito iniciativas como:**

- Extinguir projetos de revitalização dos recursos hídricos e de meios para monitorar usos do bioma.
- Conceder estímulos às culturas de grãos para exportação nos municípios que mais devastam o bioma.
- Promover a recuperação de solos e microbacias e instituir planos de manejo da vegetação.
- Estimular a expansão da extração de madeira para ser usada como lenha e carvão vegetal.

## 05. Tabela – Evolução da distribuição de renda no Brasil

ANO	Índice de Gini*
2001	0,558
2002	0,553
2003	0,545
2004	0,535
2005	0,532
2006	0,528
2007	0,521
2008	0,515

De acordo com a tabela, é correto afirmar que no Brasil:

- Houve aumento da concentração de renda no período.
- Vem ocorrendo uma queda lenta na desigualdade de renda.
- Elevam-se as desigualdades, apesar do crescimento econômico.
- Foram eliminadas as disparidades sociais e de renda.

Fontes: IBGE, PNAD 2008.

(\*) O Índice de Gini, que pode variar de 0 a 1, é usado para medir a distribuição de renda. Quanto mais próximo de 1, maior será a concentração de renda, ocorrendo o contrário quando o índice se aproximar de 0.

**06.** Alegrete é uma espécie de capital dos gaúchos, é o maior município do estado em extensão territorial, intitula-se a “mais gaúcha das cidades” e sedia um dos mais originais eventos de manifestação cultural do país: a Semana Farroupilha. Aqui a comemoração tem uma marca especial: o incrível desfile do dia 20 de setembro. Literalmente, veem-se nas ruas milhares de cavalos e éguas. Os participantes vestem-se a caráter, usam suas ricas pilchas e material de arreamento. Diz-se por aqui que é o maior desfile do Rio Grande do Sul, o número oscila entre 5 mil e 8 mil ginetes. Sua origem está intimamente ligada à tradicional atividade pecuária das grandes estâncias pampeanas localizadas nas pradarias do Uruguai, Argentina e Brasil meridional. O espetáculo impressiona, é como fazer uma viagem no tempo. Ecos do passado ainda ressoam pelas ruas dessa velha capital farrapa. Acredito que aqui está preservada a originalidade das tradições.

Fonte: Izan Petterle. Alegrete: capital dos farrapos. National Geographic Brasil, 24/9/2008 (com adaptações). Disponível em: [http://viajeaqui.abril.com.br/national-geographic/blog/111915\\_comentarios.shtml?8166701](http://viajeaqui.abril.com.br/national-geographic/blog/111915_comentarios.shtml?8166701)

Levando em consideração as afirmações do texto, é correto afirmar que a Semana Farroupilha:

- Relembra a época da pecuária nos pampas, que deixou de existir na região.
- Comemora a derrota dos farrapos na Revolta Farroupilha ocorrida no século 19.
- Renega as tradições gaúchas devido à decadência da pecuária na região.
- É patrimônio cultural brasileiro, que preserva a identidade cultural de parte dos gaúchos.

**07.** A cidade de São Paulo ganhará mais uma área verde para recreação e lazer na Zona Leste: o Parque Lajeado. Com cerca de 36 mil m<sup>2</sup>, o parque ficará aberto todos os dias, com playground, áreas de estar e jogos, além de um Centro de Educação Ambiental e boa acessibilidade a cadeirantes. Com mata nativa local preservada, o parque possui grande variedade de espécies de plantas e espécies de fauna como o pica-pau-anão-de-coleira e o papagaio-verdadeiro.

Fonte: Planeta Sustentável, 4/3/2010. Disponível em: <http://planetasustentavel.abril.com.br/noticia/cidade/sp-inaugura-parque-municipal-ampla-area-verde-537900.shtml> (com adaptações).

Com base na notícia, conclui-se que a iniciativa apresentada:

- Reforça desigualdades sociais em cidades do país, marcadas pela ausência de espaços públicos.
- Elimina o estoque de espaços públicos de livre acesso e áreas verdes em cidades brasileiras.
- Revela a expansão de espaços privados de acesso restrito, uma característica das metrópoles do país.
- Cria espaço público de livre acesso em grande cidade brasileira, o que vai beneficiar a população.

**08.** Um relatório da ONU de 1998 examinou o consumo sob a ótica das necessidades humanas e concluiu: “O mundo tem recursos suficientes para acelerar o desenvolvimento humano para todos e erradicar as piores formas de pobreza. O investimento anual adicional para atingir acesso universal a serviços sociais básicos seria de US\$ 40 bilhões, 0,1% da renda mundial”. Segundo o relatório, o investimento anual suplementar para assegurar educação básica a todos seria de US\$ 6 bilhões, que não se conseguem, enquanto se gastam US\$ 8 bilhões em cosméticos nos Estados Unidos; (...) saúde e nutrição básicas para todos exigiria US\$ 13 bilhões suplementares por ano, e gastam-se US\$ 17 bilhões em ração para animais de estimação na Europa e nos Estados Unidos. Gastam-se por ano em todo o mundo US\$ 400 bilhões em narcóticos.

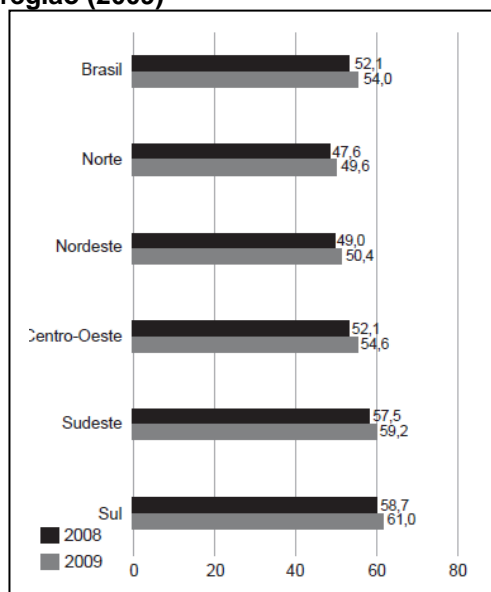
Fonte: Ladislau Dowbor. Consumo inteligente, março de 2007. Disponível em: <http://planetasustentavel.abril.com.br/especiais/consumo/> (com adaptações).

Com base em dados sobre padrões de consumo atuais, o autor do texto defende que:

- A realidade da Europa ocidental e dos Estados Unidos mostra que são dispensáveis novos investimentos sociais nesses países.
- É preciso elevar os investimentos sociais como forma de combater a pobreza e as desigualdades no mundo.
- A falta de investimentos em programas sociais decorre da carência mundial de recursos financeiros.
- Países ricos investem em bens ditos supérfluos porque as necessidades básicas do planeta já foram atendidas.

**09.** Pesquisa do Ministério do Turismo e outros órgãos revela a capacidade de lugares para gerar negócios relacionados ao turismo de forma sustentável, propiciando ao visitante uma experiência positiva. Levaram-se em conta itens como: acesso, serviços, atrativos turísticos, economia local, aspectos sociais, culturais e ambientais, infraestrutura etc. Foram pesquisados 65 diferentes destinos indutores do desenvolvimento turístico regional no país, atribuindo-se nos resultados pontuação de 0 a 100. Observe o gráfico.

Gráfico - Brasil: Competitividade dos destinos turísticos - Resultados por região (2009)



De acordo com o texto e o gráfico, é correto afirmar que os espaços que se destacam no setor são os de:

- Elevada modernização e dotados de infraestrutura para o turismo, como os situados na região Sul.
- Destinos dotados de serviços de turismo de sol e praia, como os encontrados na região Nordeste.
- Regiões com atrativos turísticos ligados a atributos naturais, como as da Amazônia.
- Influência de novas regiões metropolitanas, caso das situadas no Norte e no Centro-Oeste do país.

Fonte: FGV/Mtur/Sebrae. Estudo de Competitividade dos 65 Destinos Indutores do Desenvolvimento Turístico Regional. Brasília: Ministério do Turismo, 2009, pág. 35.

**10.** Às divisões das sociedades modernas – pobres e ricas –, está na hora de acrescentar outras: jovens e velhas. O aumento de jovens persiste em determinados países (1), com casos em que quase a metade da população tem menos de 15 anos de idade. Por outro lado, a população de outros países envelhece, sendo que em alguns cerca de 1/5 do contingente total tem mais de 65 anos de idade (2).

Fonte: Revista National Geographic Brasil, edição nº 115, outubro 2009, pág. 28 (com adaptações).

Representam os processos assinalados com os números 1 e 2, respectivamente, países como:

- Itália e Espanha.
- Brasil e Gabão.
- Uganda e Japão.
- Estados Unidos e Haiti.

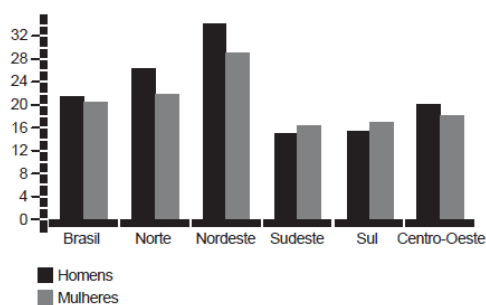
**11.** A introdução de espécies exóticas de plantas e animais pelos portugueses e outros colonizadores contribuiu para alterar a biodiversidade e ecossistemas no Brasil e em outras terras do continente americano. Em vários casos, as novas espécies tiveram boa adaptação, gerando ao longo do tempo a visão cultural de que se tratava de espécies nativas brasileiras, como é o caso dos coqueiros da orla atlântica, originários de regiões na orla do Oceano Índico.

Fonte: Baseado em MIRANDA, Evaristo. A invenção do Brasil. Revista National Geographic Brasil, edição nº 86, maio de 2007, págs. 68-71.

Entre as espécies exóticas hoje incorporadas aos hábitos alimentares brasileiros estão:

- Banana, manga e cana-de-açúcar.
- Caju, abacaxi e castanha-do-pará.
- Cacau, batata-doce e caju.
- Mandioca, banana e abacaxi.

**12.** Gráfico – Brasil: taxa de analfabetismo funcional por sexo e regiões (em %)\*



Fonte: IBGE. PNAD, 2008.

(\*) População acima de 15 anos com menos de quatro anos de escolaridade e que não consegue utilizar leitura, escrita e conhecimentos matemáticos em situações da vida social.

Com base nos dados do gráfico, é correto afirmar que:

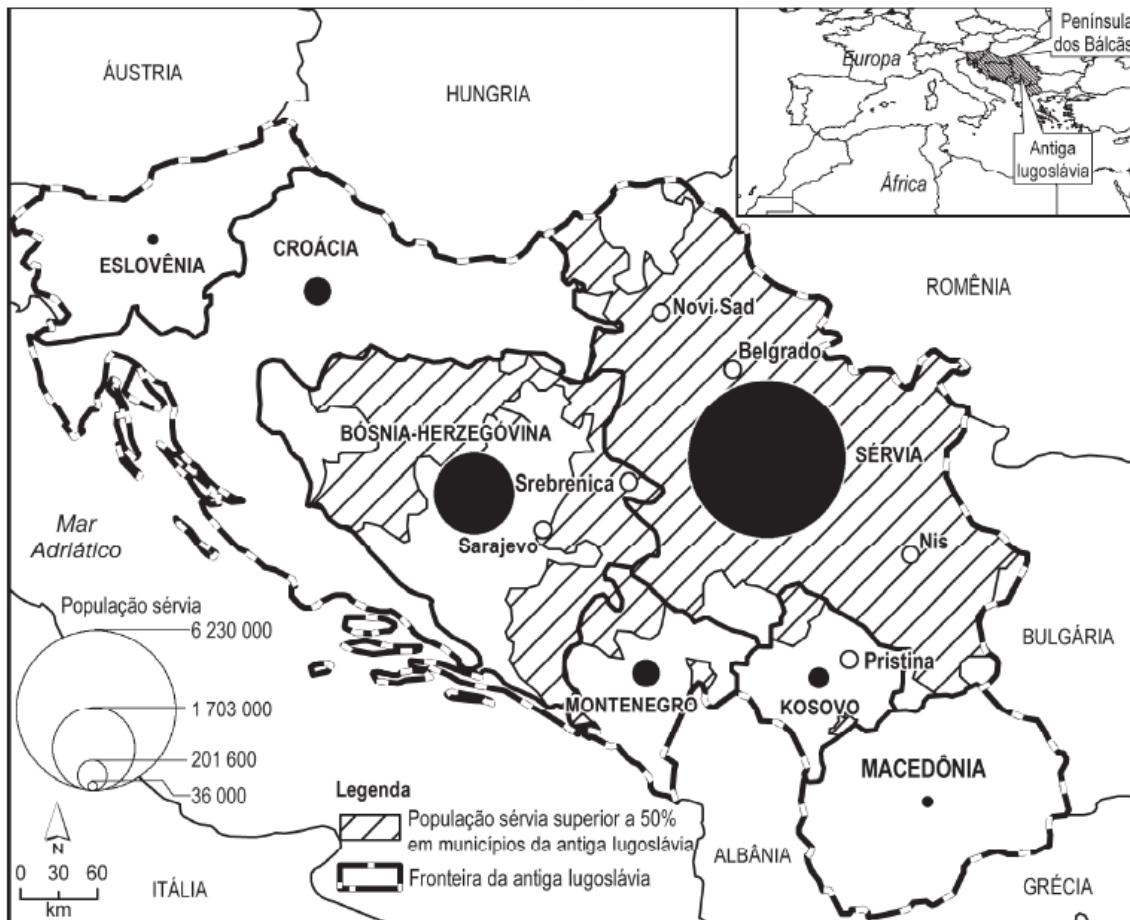
- Há nas regiões brasileiras equilíbrio nas taxas de analfabetismo funcional tanto entre as mulheres como entre os homens.
- As taxas de analfabetismo funcional entre homens e mulheres nas regiões Norte e Nordeste são as mais elevadas do país.
- Os indicadores mostram que as desigualdades de gênero no campo educacional foram eliminadas nas regiões brasileiras.
- Entre os analfabetos funcionais das regiões Norte, Sudeste e Sul, há predomínio da população masculina.

**13.** Quando servimos 1 quilo de carne, também estamos servindo 15,4 mil litros de água. Uma xícara de café? Equivale a 140 litros, ou uma banheira cheia. Ao vestir uma calça jeans, ficamos encharcados em 11 mil litros de água. Esse é o consumo que não podemos ver. O conceito foi criado na década de 1990 pelo geógrafo britânico Tony Allan e é conhecido como:

Fonte: National Geographic Brasil, edição nº 121, abril de 2007 (encarte).

- Água de reúso.
- Estresse hídrico.
- Água virtual.
- Geopolítica da água.

**14.** Mapa – Repúblicas dos Balcãs e população sérvia nos países



Fonte: Revista National Geographic Brasil, edição no 112, julho 2009, pág. 105.

A conturbada região dos Balcãs, na Europa, foi palco de inúmeros conflitos e guerras após a fragmentação da Iugoslávia, uma federação socialista composta por seis repúblicas e diferentes línguas, etnias e religiões. O país se manteve unificado até a morte do Marechal Tito em 1980, com base no regime e na ideologia socialista, repressão aos opositores e concessões às autonomias nacionais.

Com base no mapa e no texto, assinale a alternativa que caracteriza a atual divisão política na região após o fim da Iugoslávia:

- Após a independência, Eslovênia, Croácia, Bósnia-Herzegóvina e Macedônia ingressaram na União Europeia.
- O comando político das seis repúblicas independentes atuais permanece com os sérvios, já que eles são a maioria da população nesses países.
- Da antiga república socialista, restou apenas o conjunto formado por Sérvia e Montenegro, sob o comando de líderes sérvios.
- Kosovo declarou independência da Sérvia em 2008, mas o país ainda é considerado uma província rebelde por esta última.

**15.** Não são apenas os anos que os hadzas não contam. Eles também ignoram as horas, os dias, as semanas e os meses. (...) À noite os espinhos são invisíveis, e orientar-se parece impossível. Não há trilhas e as referências são raras. Deslocar-se pela mata no escuro, sem lanterna, requer o tipo de familiaridade que se tem, por exemplo, com o próprio quarto.

Para Onwas, a orientação não é problema. Ele vive na mata desde que nasceu. Sabe acender uma fogueira girando um graveto entre as mãos. (...) Ele sabe tudo o que há para saber sobre a mata, e quase nada sobre o que há além dela.

Mil hadzas vivem em suas terras tradicionais (...). Alguns mudaram-se para perto de vilarejos e foram trabalhar para lavradores ou como guias de turistas (...). Não têm plantações nem animais de criação ou abrigo permanente. (...) O que os hadzas parecem oferecer é um vislumbre de como poderia ter sido a vida antes do surgimento da agricultura, 10 mil anos atrás.

Fonte: FINKEL, Michael. Hadzas. Revista National Geographic Brasil, edição nº 117, dezembro 2009, págs. 112-114.

Considerando a organização social dos hadzas, povo que vive ao norte da Tanzânia, é correto afirmar que a história é composta de:

- Uma única temporalidade que se impõe e destrói a anterior.
- Diferentes temporalidades que convivem em uma mesma época.
- Temporalidades isoladas, sem contato umas com as outras.
- Uma temporalidade para cada espaço, sem conexões entre elas.

## **16.** Tabela - Grande Miami (EUA): Origens de moradores estrangeiros

<b>País de nascimento</b>	<b>%</b>
1. Cuba	30%
2. Haiti	9%
3. Colômbia	7%
4. Jamaica	7%
5. Nicarágua	4%

Fonte: George Washington University – Globalization, Urbanization and Migration. In: Revista National Geographic Brasil. Dossiê Terra 2010, pág. 30.

Com base nos dados, é correto afirmar que as comunidades de estrangeiros residentes hoje na Grande Miami são formadas por:

- Refugiados políticos que buscaram abrigo nos Estados Unidos.
- Migrantes originários de diferentes países latino-americanos.
- Contingentes cujos países de origem têm o inglês como idioma oficial.
- Trabalhadores qualificados, configurando a chamada fuga de cérebros.

**17.** Um intenso tremor de terra registrado no Chile em fevereiro e março de 2010, com epicentro no Oceano Pacífico próximo a Maule, região central do país, registrou 8,8 graus na escala Richter, seguido de sucessivas réplicas sísmológicas. Como resultado, causou a morte de cerca de 800 pessoas. Analistas afirmam que o Chile apresenta condições distintas do Haiti, também abalado por tremores com epicentro localizado a 25 km da capital, Porto Príncipe, e que atingiram 7,0 graus na escala Richter com inúmeras réplicas sísmológicas, totalizando cerca de 300 mil vítimas fatais.

Considerando os efeitos dos terremotos nesses países, a situação chilena se diferencia da haitiana por apresentar maior:

- Fragilidade dos recursos econômicos e dos níveis de organização social e política.
- Instabilidade política, face à ausência de eleições livres e participação popular.
- Consolidação das instituições nacionais e índices favoráveis de crescimento econômico.
- Dependência em relação aos Estados Unidos e baixos índices de desenvolvimento humano.

**18.** Sobre a cidade de Xangai, na China, considere as afirmações a seguir:

- I – Apesar do forte crescimento econômico chinês, Xangai vive intensa depressão econômica, herança das interferências do governo comunista que exilou suas elites econômicas, suprimiu o dialeto local e se apropriou dos recursos financeiros da cidade.
- II – Desde meados da década de 1970, quase dobrou a população da cidade. Nas décadas seguintes, houve aceleração do crescimento econômico. Mais de 6 milhões de migrantes temporários elevam para quase 20 milhões de pessoas a população da metrópole, cuja mancha urbana estende-se hoje por cerca de 1000 km<sup>2</sup>.
- III – Em função do tipo e do ritmo de crescimento registrado em Xangai, a metrópole vem conhecendo hoje a proliferação de arranha-céus e canteiros de obras. Estão programados novos edifícios modernos, demolição de prédios antigos, abertura de novas ruas e estradas e novos investimentos em infraestrutura.

Caracteriza corretamente a cidade de Xangai no período atual o que foi afirmado em:

- a. I, II e III.
- b. I e III.
- c. I, apenas.
- d. II e III.

**19.** Em 2002, o Timor Leste conquistou independência em relação à Indonésia. Desde então, entretanto, nenhum outro território no mundo alcançou soberania. Quase 50 anos após a ONU apelar para o fim do colonialismo, restam 16 lugares, com cerca de 1,2 milhão de habitantes, ainda sob domínio externo. Os Estados Unidos e o Reino Unido recusam-se a cooperar.

Fonte: Últimas colônias. Revista National Geographic Brasil, edição nº 99, junho 2008, pág. 28 (com adaptações).

Entre os territórios ainda hoje sob domínio estrangeiro estão:

- a. Taiwan (China), Angola (Portugal) e Saara Ocidental (Marrocos, parcialmente).
- b. Ilhas Cayman (Reino Unido), Guam (Estados Unidos) e Nova Caledônia (França).
- c. Ilhas Malvinas (Argentina), Guiana (Reino Unido) e Ilhas Tokelau (Nova Zelândia).
- d. Gibraltar (Reino Unido), Panamá (Estados Unidos) e Kosovo (Sérvia).

**20.** Trilha para o futuro

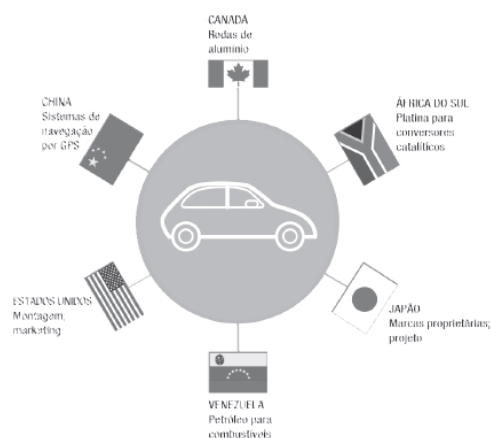
Há mais ou menos 200 anos, o planeta está vivendo da poupança da Terra, da energia acumulada graças aos raios solares. O carvão mineral, o petróleo e o gás natural são subprodutos da energia solar do passado. Mas essa poupança, ainda que não tenha se esgotado, foi bem reduzida e tem outras limitações – como o dano crescente ao planeta. O que fazer agora? Onde iremos encontrar energia limpa e abundante para que o planeta continue sendo habitável pelas gerações futuras?

Fonte: Revista National Geographic Brasil. Energia para o Futuro, 2009, pág. 81. Edição especial (com adaptações).

Das alternativas abaixo, a que melhor complementa a linha de exposição e de argumentos do texto é:

- a. A energia alternativa necessária para o futuro da humanidade virá das fontes fósseis, que geram riqueza e possuem alto teor energético.
- b. Cabe desenvolver pesquisas nesse campo, já que atualmente inexitem tecnologias disponíveis para aproveitar a luz e o calor do Sol para gerar energia.
- c. Parte da energia alternativa necessária continuará vindo do Sol, restando aperfeiçoar formas de captação de sua luz e calor para fins energéticos.
- d. É preciso abandonar de imediato as fontes fósseis e substituí-las pela eólica e solar, hoje disponíveis a baixo custo nos países e regiões do planeta.

## 21. Esquema – Produção de automóveis no mundo



Fonte: Dossiê Terra: o estado do planeta – 2010. Revista National Geographic Brasil, 2009, edição especial, pág. 55.

A partir do esquema ao lado, considere as afirmações a seguir:

I – O circuito produtivo dos automóveis ocorre hoje integralmente no interior de cada país, da concepção original à venda final ao consumidor, desvinculando-se da produção globalizada.

II – Etapas como as de concepção, marketing, produção de peças e componentes e montagem do produto final distribuem-se por vários países e regiões do planeta, evidenciando a produção em escala global de automóveis.

III – Na produção do carro mundial, cabe a países ricos fabricar peças e componentes e oferecer combustíveis automotores e aos países emergentes o comando na concepção, marketing e publicidade dos bens em questão.

Está correto o que foi afirmado em:

- I, II e III.
- I, somente.
- II e III.
- II, somente.

**22.** Sexto maior exportador mundial de petróleo, o país latino-americano possui reservas de cerca de 77 bilhões de barris. Boa parte da economia do país vem das receitas dessa riqueza natural. Apesar das tensões com Washington, os Estados Unidos compram mais da metade do petróleo exportado pelo país. No plano externo, cresce a aproximação com Rússia, Cuba e China. Vêm ocorrendo disputas no plano interno, polarizadas pelo atual presidente e as oposições e marcadas por nacionalização de empresas e cassação de concessões nos meios de comunicação. Para analistas, tais antagonismos têm gerado um quadro político que por vezes beira a ruptura institucional. Com base no texto, conclui-se que o país em questão é o/a:

- México.
- Venezuela.
- Equador.
- Colômbia.

**23.** Mais um escândalo se abateu sobre Brasília e os políticos locais. O governador José Roberto Arruda, chegou a sofrer impeachment e ficou preso por vários dias, no episódio que se apelidou de Mensalão do DEM. As acusações sobre ele são, dentre outras:

- tráfico de drogas e improbidade administrativa;
- formação de quadrilha e corrupção ativa e passiva;
- peculato e corrupção de menores;
- crime eleitoral e crime ambiental.

**24.** O problema dos assentamentos de judeus em áreas disputadas com palestinos parece não ter fim. Houve intervenção dos EUA e até o presidente Lula tentou interferir, o que criou uma nova aresta diplomática quando o Ministro do Interior de Israel se recusou a assistir seu discurso. Todo o desentendimento foi fruto:

- a. da posição de Lula, que declarou que as terras devem ser devolvidas aos palestinos;
- b. de uma crise criada pelo fato de que o Brasil não quis adquirir produtos da pauta de exportações de Israel;
- c. das declarações do ministro israelense de que não apoiaria a candidatura de Lula para chanceler da ONU;
- d. da posição do governo brasileiro em apoiar, mesmo que de forma indireta, os governos do Irã e alguns grupos palestinos.

**25.** Enquanto alguns especialistas declaram ser obra do El Niño, a população em geral acredita ser obra do aquecimento global. Todavia, independente da causa, o fato é que o verão de 2010 foi o mais quente dos últimos 30 anos. A vilã do momento foi a sensação térmica, que nada mais é do que:

- a. a temperatura que é marcada nos termômetros;
- b. a relação entre a temperatura e a umidade relativa do ar, o que aumenta a sensação de “estufa”;
- c. o resultado do aumento da pressão atmosférica sobre o nosso corpo;
- d. o que sentimos quando tocamos em um termômetro com as mãos.

**26.** Nesse início de 2010 o Estado do Rio de Janeiro teve sua economia abalada com uma notícia alarmante: toda a riqueza do pré-sal que seria injetada nos cofres do estado estava ameaçada. Pela nova proposta:

- a. o estado do Rio de Janeiro não teria mais nenhum direito aos royalties do petróleo;
- b. o pré-sal seria de “propriedade” da Petrobrás, o que significaria que nenhum estado teria direito a sua exploração;
- c. o pré-sal seria privatizado e entregue às empresas multinacionais do setor;
- d. os rendimentos do pré-sal seriam divididos igualmente por todos os estados, sem distinção de ser ou não produtor de petróleo.

**27.** "Levando em conta a amplitude das transferências de tecnologia propostas e das garantias oferecidas pelos fornecedores, o presidente Luiz Inácio Lula da Silva anunciou a decisão da parte brasileira de entrar em negociações para a aquisição de 36 aviões de combate".

Folha online – 7.4.10

Dessa forma o governo brasileiro deu fim à polêmica em torno da compra dos aviões da FAB, decidindo:

- a. comprar os aviões da França através do consórcio da empresa francesa Dassault;
- b. pelos aviões suecos do modelo Gripen da empresa SAAB;
- c. aceitar a proposta da Boeing, dos EUA, com o modelo FA/18 Super Hornet;
- d. adquirir modelos MIG russos, utilizados pela força aérea daquele país.

**28. Mais um escândalo abala as estruturas da Igreja Católica. Dessa vez, além de membros da congregação, o Papa Bento XVI também é alvo de acusações, segundo as quais ele:**

- a. teria passado alguns anos tendo um relacionamento com uma mulher;
- b. interferiu em assuntos de Estado no episódio da Guerra do Kosovo;
- c. se omitiu de condenar a execução pública de Saddam Hussein pelos EUA;
- d. tinha conhecimento de atos de pedofilia de padres sob seu comando, mas omitiu os fatos.

**29. A batalha está longe de terminar. Afinal são dois gigantes em lados opostos de um assunto polêmico e explosivo. O governo chinês e o mega conglomerado do setor de comunicação Google tiveram um sério incidente em virtude do(a):**

- a. fechamento do site na China por não aceitar mais a censura imposta pelo governo;
- b. reconhecimento do site como fonte de pornografia e pedofilia na internet;
- c. venda do site chinês para concorrentes japoneses, o que irritou o governo de Pequim;
- d. divulgação de informações secretas do governo através do site.

**30. A sociedade brasileira nunca se mobilizou tanto com um julgamento como o do casal Nardoni. Ambos foram condenados a penas de reclusão pela morte da filha dele, Isabella. A condenação se deu pelos crimes de homicídio doloso triplamente qualificado, por usarem meio cruel, dificultarem a defesa da vítima e tentarem esconder o crime alterando o local.**

**Neste caso, o fato de ser doloso, significa que o crime foi praticado:**

- a. sem a intenção de provocar a morte da vítima;
- b. com métodos específicos, independente da intenção de provocar a morte da vítima;
- c. por mais de uma pessoa, configurando um ato de covardia pelos seus praticantes;
- d. com a intenção de provocar a morte da vítima.

**31. “As chuvas que atingiram a cidade do Rio de Janeiro não têm nada de anormal.” Esta foi a declaração do INMET – Instituto de meteorologia – sobre o temporal dos dias 5 e 6 de abril. Segundo os especialistas, o caos das enchentes se abateu sobre a cidade em virtude da(o):**

- a. número de automóveis que circula no município do Rio de Janeiro;
- b. conjugação de um volume muito elevado de chuvas em um curto espaço de tempo com uma grande quantidade de lixo nas ruas;
- c. obra de instalação do metrô na região da Praça da Bandeira;
- d. processo de rebaixamento geológico que ocorreu na cidade no final de 2009, o que facilitou os alagamentos.

**32. Acadêmicos islâmicos de 12 países condenaram os atentados suicidas cometidos por rebeldes muçulmanos no final de março deste ano em Moscou e no Daguestão, qualificando-os como "ataques terroristas criminosos", contrários à sua religião. Ambos foram assumidos por rebeldes:**

- a. ucranianos que buscam a formação de uma nova URSS;
- b. chechenos que lutam por causas separatistas em sua república, a Chechênia;
- c. da Al Qaeda que representam os árabes radicados em Moscou;
- d. iranianos revoltados pela posição de neutralidade assumida pela Rússia na crise política que envolve seu país.

**33.** “A Avenida Rio Branco, a principal via do centro do Rio, é varrida seis vezes por dia – e, ainda assim, está sempre suja. Diariamente, são recolhidas 3 500 toneladas de lixo das ruas cariocas, o que equivale a 590 gramas por habitante. Em São Paulo, são 2 970 toneladas por dia, ou 280 gramas por habitante. É menos da metade. Esses dados mostram que o carioca é pouco educado quando descansa e quando trabalha”.

Veja Edição 2141 / 13 de fevereiro de 2010

O prefeito fez muito barulho ao anunciar medidas para conter a sujeira, tais como ameaçar não recolher o lixo por um dia. Segundo a prefeitura a questão se resume ao fato de que:

- a. cabe exclusivamente à população cuidar da limpeza da cidade;
- b. a prefeitura deve contratar mais garis;
- c. não há problemas se as ruas da cidade permanecerem sujas;
- d. a limpeza da cidade é responsabilidade do governo, mas cabe à população preservá-la.

**34.** Em sua visita a Cuba, ao ser perguntado sobre a greve de fome de dissidentes cubanos, assim respondeu o presidente Lula:

*“Temos de respeitar a determinação da Justiça e do governo cubanos de deter as pessoas em função da legislação de Cuba. A greve de fome não pode ser utilizada como um pretexto de direitos humanos para liberar as pessoas. Imagine se todos os bandidos presos em São Paulo entrarem em greve de fome e pedirem liberdade. Gostaria que não ocorressem [detenções de presos políticos], mas não posso questionar as razões pelas quais Cuba os deteve, como tampouco quero que Cuba questione as razões pelas quais há pessoas presas no Brasil”*

Dessa forma, Lula deixou clara sua posição, na qual:

- a. é totalmente contrário à manutenção de presos políticos;
- b. se declara a favor da intervenção de países na soberania de outros;
- c. defende que se um país considera que há razões para prisões de ordem política, isso não deve ser alvo de intromissões externas;
- d. defende a posição de que presos políticos devem ser deixados a sua sorte até morrer de fome.

**35.** O Walmart Brasil anunciou o programa “Cliente Consciente Merece Desconto”. Nele a empresa devolve ao consumidor o valor de custo da sacola não utilizada na compra. O desconto de R\$ 0,03 por cada sacolinha será calculado diretamente no caixa. O valor corresponde ao custo unitário da sacola ou a cinco itens adquiridos – quantidade média de produtos embalados em uma sacola, segundo estudo do Instituto Akatu. Em uma compra de 200 itens, o cliente “ganhará” R\$ 1,20. Além do programa, também em 60 dias, todas as lojas terão um caixa preferencial para quem não usa os sacos plásticos.

Com essas medidas, a empresa espera:

- a. obrigar os clientes a gerar menos poluição do meio ambiente;
- b. melhorar seu desempenho no mercado e recolher menos impostos;
- c. atrair investimentos do governo com seu programa de combate à poluição;
- d. estabelecer uma parceria com seus clientes: quem não polui gasta menos.

**36.** Por pouco o governo brasileiro não teve que administrar um incidente diplomático. Durante a visita de Hillary Clinton, o presidente Lula não iria se reunir com ela, mas a pedido do Ministro Celso Amorim, cedeu em posar para uma foto ao lado da Secretária de Estado dos EUA. Mais tarde, em um discurso (de improviso) em Itaboraí, no Rio de Janeiro, declarou:

- “Ministro fala com ministro. Quando Obama vier ao Brasil falarei com ele”.
- “Não sou simpático à sua visita ao Brasil.”
- “Se fosse cidadão dos EUA não votaria em você.”
- “Eu achava a Condoleezza Rice mais simpática e competente.”

**37.** Além de ter provocado destruição e a morte de mais de uma centena de pessoas, o terremoto que ocorreu no Chile e atingiu 8,8 graus na Escala Richter, gerou outra possível consequência. Segundo cientistas ele teria:

- alterado a salinidade dos oceanos por conta do derrame de lava;
- alterado a duração dos dias em virtude de um pequeno deslocamento do eixo terrestre;
- deixado um rastro de mais de mil quilômetros de uma fenda por onde vazaram gases tóxicos;
- liberado energia térmica equivalente a 10 mil vezes o calor do Sol.

**38.** Com certeza serão necessários alguns meses para que a situação política da Polônia se estabilize, afinal:

- o país foi atingido por um fortíssimo terremoto, assim como o Chile e o Haiti;
- a população vem mantendo uma greve geral que já dura três meses;
- um acidente aéreo vitimou o presidente e várias outras autoridades políticas do governo;
- a crise de 2009 ainda vem produzindo consequências como o fechamento do Congresso e do Banco Central.

**39.** A charge acima explica o motivo do fracasso da COP 15 – Conferência Mundial sobre o Clima. Segundo ela as negociações naufragaram em função:



- da falta de verbas para projetos de cunho ambiental;
- da ganância que, infelizmente, se torna mais importante do que a preservação ambiental;
- da falta de diálogo entre capitalistas e comunistas;
- dos avanços tecnológicos que insistem em gastar, sem nenhum controle, os recursos do planeta.

**40.** À primeira vista, uma colorida pulseira de plástico nos pulsos de crianças parece inocente. Mas na realidade elas são um código para as suas experiências sexuais, onde cada cor significa um grau de intimidade, desde um abraço até ao sexo propriamente dito.

**A proibição do seu uso nas escolas tem gerado polêmica e se baseia:**

- a. no fato de que não faz parte do uniforme escolar;
- b. em declarações de pais que não querem seus filhos usando tais adereços;
- c. num posicionamento da Igreja que proíbe o sexo antes do casamento;
- d. num estupro sofrido por uma adolescente que teria sido obrigada a cumprir atos sexuais relacionados à cor da pulseira que ela usava.

**41.** Dois grandes eventos de alcance mundial ocorreram nos meses de Abril e Maio: a Cúpula de Segurança Nuclear, convocada pelos EUA, em Washington; e a Conferência de Revisão do Tratado de Não-Proliferação (TNP), nas Nações Unidas, que mobilizará as diplomacias de 189 países.

**Ambos ocorreram em virtude das posições assumidas pelo governo do \_\_\_\_\_ que não tem acatado as determinações da ONU em tornar públicos seus projetos de produção de energia nuclear.**

- a. Irã.
- b. Iraque.
- c. Afeganistão.
- d. Japão.

**42.** A Apple vendeu mais de 300 mil unidades em algumas horas. Ainda assim, as filas de espera foram consideravelmente menores em relação as que se formaram quando do lançamento do iPhone, em Julho de 2007. Em menos de 24h já havia sido pirateado.

**Estamos falando do lançamento do:**

- a. iPad.
- b. iCar.
- c. iBike.
- d. iFood.

**43.** Além de sofrer com os deslizamentos e mortes dos parentes por conta das chuvas, a Comunidade do Morro do Bumba, em Niterói, se deparou com uma outra tragédia. Após escavações para a procura de vítimas, foi descoberto que o terreno havia sido ocupado por:

- a. uma usina nuclear;
- b. um cemitério;
- c. um lixão;
- d. uma lagoa.

**44.** Após as chuvas, o Rio de Janeiro foi atingido pelo fenômeno da ressaca, que potencializa as ondas e, normalmente faz com que o mar invada as avenidas mais próximas. Trata-se de um fenômeno natural que:

- a. ocorre pela ação do homem em construir calçadas e barreiras artificiais;
- b. ocorre em virtude da chegada de frentes frias com ventos fortes e baixa temperatura;
- c. é aleatório, isto é, ainda não se sabe exatamente o que causa a sua ocorrência;
- d. é muito raro, pois atinge o litoral do estado com intervalos de aproximadamente 30 anos.

#### **45. DESLIZAMENTO DE TERRA ATINGE POUSADA EM ANGRA DOS REIS**

*Um deslizamento de terra atingiu uma pousada nesta sexta-feira na praia do Bananal, em Angra dos Reis (RJ). Segundo informações da Defesa Civil municipal, equipes estão no local e pode haver vítimas soterradas.*

da Folha Online (01.01.2010)

O Estado do Rio de Janeiro começou o ano sendo atingido pelo fenômeno dos deslizamentos de terra. Fica claro que não se trata de uma novidade o que ocorreu na capital, pois os fatos se assemelham afinal as duas cidades apresentam como características comuns:

- a. encostas ocupadas com construções ilegais e altos índices de chuvas;
- b. ocorrência de ventos fortes e elevada taxa de natalidade;
- c. muitos automóveis e presença de camelôs nas ruas;
- d. tráfico de drogas e violência urbana.

**46.** Muitos brasileiros procuram “ganhar a vida” em países vizinhos, na própria América do Sul, como é o caso de algumas famílias que trabalham como garimpeiros na divisa do Pará e que foram atacadas em dezembro de 2009 pelos *marrons*, habitantes locais descendentes de quilombolas. Entre os 18 brasileiros feridos ocorreram supostos estupros, golpes de facão, socos desferidos em mulheres grávidas etc. O episódio ocorreu em Albina, cidade próxima a Paramaribo, capital do (da):

- a. Venezuela;
- b. Suriname;
- c. Guiana;
- d. Guiana Francesa.

**47.** Em janeiro de 2010, o Haiti sofreu um terremoto de grande magnitude que alcançou 7,3 graus na escala Richter, provocando mais de 212 mil óbitos, 300 mil feridos e milhares de amputações, além da devastação física inclusive da capital Porto Príncipe. O Haiti, banhado ao Norte pelo Oceano Atlântico e ao Sul pelo Mar das Antilhas, faz divisa exclusivamente com:

- a. Porto Rico;
- b. Cuba;
- c. a Jamaica;
- d. a República Dominicana;

**48.** Em relação às personalidades a seguir, *não é correta a associação*:

- a. José Mujica – novo presidente do Paraguai;
- b. Sebastián Piñera – presidente eleito do Chile;
- c. René Préval – presidente do Haiti;
- d. Evo Morales – presidente reeleito da Bolívia.

**49.** No mês de janeiro último, ocorreu uma ameaça à segurança da Copa do Mundo da África do Sul. Em Cabinda, uma das cidades-sede da Copa Africana das Nações, o ônibus que transportava a seleção do Togo foi metralhado por membros de um movimento separatista local, sendo que dois integrantes da delegação togolesa morreram e oito ficaram feridos. Cabinda é uma cidade:

- a. do Sudão;
- b. de Angola;
- c. da Nigéria;
- d. da Somália.

**50.** O Rio Grande do Sul é o segundo maior produtor de energia eólica dos estados brasileiros. O terceiro é Santa Catarina; o estado que mais produz esse tipo de energia é:

- a. a Bahia;
- b. o Espírito Santo;
- c. o Ceará;
- d. o Rio de Janeiro.

**51.** Pesquisadores de arte querem exumar o corpo do artista que fez o retrato da indecifrável *Monalisa* para testar a teoria de alguns (aprovando ou refutando) de que o rosto da mulher da famosa tela não é outro senão o rosto feminilizado do próprio gênio renascentista e autor da obra. Estamos falando de:

- a. Pablo Picasso;
- b. Leonardo da Vinci;
- c. Salvador Dalí;
- d. Michelangelo

**52.** Não é correta a associação:

- a. Vitaly Petrov – primeiro piloto de Fórmula-1 da Rússia;
- b. Mehmet Ali Agca – saiu da prisão este que tentou matar o Papa João Paulo 2º em 1981;
- c. Aleida March – cubana e viúva do revolucionário Nelson Mandela lança o livro *Evocação*;
- d. Stephenie Meyer – escritora norte-americana criadora da saga *Crepúsculo* e *Lua Nova*.

**53.** Nascido no Recife em 1849, este intelectual foi político, diplomata, historiador, jurista, jornalista, um dos fundadores da Academia Brasileira de Letras e, apesar de educado por uma família de escravocratas, foi um abolicionista. Em 2010, centenário de sua morte, por lei (15/06/2009) é comemorado o Ano Nacional de:

- a. José Bonifácio de Andrada e Silva;
- b. Eusébio de Queirós;
- c. Bento Gonçalves;
- d. Joaquim Nabuco.

**54.** O cartunista *Glauco Vilas Boas*, 53 anos, e seu filho *Raoni*, 25 anos, foram assassinados a tiros no dia 11 de março último em Osasco, São Paulo, em frente à sua residência. Entre outros trabalhos de crítica eficiente e corrosiva da sociedade, Glauco produzia tiras diárias para os quadrinhos da *Folha de S. Paulo* a respeito do(s) personagem(ens):

- a. Chiclete com Banana;
- b. Piratas do Tietê;
- c. Geraldão;
- d. Níquel Náusea;

**55.** Em ordem decrescente, são os três maiores produtores mundiais na lavoura transgênica, produzindo soja, milho, algodão, canola, abóbora e outras espécies.

- a. Estados Unidos, Brasil e Argentina.
- b. Índia, Brasil e Estados Unidos.
- c. Brasil, Índia e Argentina.
- d. Estados Unidos, Índia e Argentina.

**56.** O primeiro país do mundo a excluir, recentemente (março/2010), a transexualidade da lista de doenças mentais foi:

- a. a Itália;
- b. a França;
- c. o Uruguai;
- d. Portugal.

**57.** A prospecção de petróleo nas Ilhas Malvinas foi rejeitada pela *Calc (Cúpula da Unidade da América Latina e do Caribe)*, que também reiterou o apoio à Argentina na retomada da soberania das ilhas perdidas em 1982 em sangrentos combates para:

- a. o Brasil;
- b. o Reino Unido;
- c. os Estados Unidos;
- d. o Canadá.

**58.** O mega-acelerador LHC (Grande Colisor de Hádrons) voltou a funcionar e, no final do mês de março último, os cientistas comemoraram o sucesso da colisão de prótons na tentativa de reproduzir, em pequena escala, o Big-Bang (ou grande explosão) que teria dado origem ao Universo. Esse acelerador ocupa um anel de 27 quilômetros a 100 metros de profundidade, sob a fronteira da França com a:

- a. Itália.
- b. Espanha.
- c. Suíça.
- d. Bélgica.

**59.** Casarões históricos de São Luís do Paraitinga (no Estado de São Paulo) que haviam sido preservados pelas chuvas e inundações do final de 2009 e início de 2010 começaram a ruir; um deles é a casa erguida em 1834 e tombada pelo Iphan (Instituto do Patrimônio Histórico e Artístico Nacional) desde 1956, onde nasceu e viveu até os cinco anos de idade o famoso cientista brasileiro:

- a. Carlos Chagas.
- b. César Lattes.
- c. Vital Brazil.
- d. Oswaldo Cruz.

**60.** Projetada para ser a maior hidrelétrica brasileira e a terceira do mundo em produção de energia, a polêmica usina de Belo Monte preocupa e atemoriza desde índios e agricultores até pescadores e ribeirinhos, pois será construída à margem do rio Xingu, um dos afluentes do rio Amazonas no Estado do (de):

- a. Pará.
- b. Maranhão.
- c. Piauí.
- d. Mato Grosso.

**61.** A gigantesca nuvem de cinzas que ocupou o espaço aéreo em função da furiosa erupção do vulcão Eyjafjallajokull (montanha da ilha glacial) provocou o cancelamento de milhares e milhares de voos nos aeroportos do mundo, principalmente da Europa. O transtorno foi imensurável e provocou verdadeiro caos nos outros meios de transporte, principalmente trens, além dos eventuais prejuízos para o clima, para a agricultura e para a saúde. A capital do país desse vulcão cravado em uma geleira é Reykjavik. Estamos falando sobre a:

- a. Islândia.
- b. Noruega.
- c. Finlândia.
- d. Irlanda.

**62.** O *Mossad* foi acusado, ainda sem provas, de executar um comandante do grupo radical palestino Hamas. O Mossad é o famoso serviço secreto do (de):

- a. Fatah.
- b. Talibã.
- c. Irã.
- d. Israel.

**63.** A lei 11340/06, ou Lei Maria da Penha, aprovada em 2005 pela Câmara dos Deputados e em 2006 pelo Senado, protege:

- a. os estudantes (da violência dos professores e diretores).
- b. as crianças (das agressões impostas pelos próprios pais).
- c. as mulheres (da violência doméstica de seus maridos ou parceiros).
- d. os idosos (das agressões impingidas por parentes ou outras pessoas).

**64.** A família do corajoso marinheiro João Cândido, do mesmo modo que os perseguidos pela ditadura militar, reivindicou nos 100 anos (em março) os direitos do herói negro da:

- a. Revolta da Chibata.
- b. Revolução Pernambucana.
- c. Guerra dos Emboabas.
- d. Conjuração Baiana.

**65.** Diplomata de carreira, foi exonerado do cargo durante a ditadura militar, em 1968. Quase 30 anos após sua morte, ele poderá ser promovido *post mortem*, em matéria já votada pelo Senado, a ministro de primeira classe, com direito à pensão proporcional ao cargo. Estamos falando de:

- a. Tom Jobim.
- b. Vinícius de Moraes.
- c. Noel Rosa.
- d. Baden Powell.

**66.** São muitos os mortos e feridos nas manifestações de rua entre o exército e os Camisas Vermelhas, estes os opositores que exigem a renúncia de Abhisit Vejjajiva, atual primeiro-ministro, e a volta de Thaksin Shinawatra, primeiro-ministro deposto em 2006 em mais um golpe de Estado no Sudeste Asiático. A cidade na qual ocorrem as sangrentas escaramuças é Bangcoc, capital:

- a. da Tailândia.
- b. do Camboja.
- c. do Vietnã.
- d. da Malásia.

**67.** Nelson Mandela foi eleito em 1994 como o primeiro presidente negro daquele país. Depois de sair da cadeia, além de assumir o posto máximo do governo, o líder africano conseguiu acabar com o *apartheid*, movimento segregacionista contra a raça negra instalado desde 1948, o que lhe rendeu o Prêmio Nobel da Paz (1993) entre dezenas de outros prêmios. Condenado por terrorismo, Mandela permaneceu preso durante:

- a. 35 anos.
- b. 27 anos.
- c. 10 anos.
- d. 40 anos.

**68.** Depois da América do Norte (em que 74,2% da população têm acesso à rede mundial de computadores), segundo a World Internet Stats (30/09/2009), a maior porcentagem de pessoas incluídas na rede mundial (60,4%) encontra-se na (no):

- a. Europa.
- b. Oceania.
- c. Ásia + África.
- d. América Latina

**69.** De acordo com o IBGE (Instituto Brasileiro de Geografia e Estatística), a população brasileira em 2010 é de 192.304.735 habitantes, dos quais estão incluídos na internet aproximadamente:

- a. 34%.
- b. 22%.
- c. 61%.
- d. 15%.

**70.** Há pouco um grande incêndio atingiu o Museu Biológico do Instituto Butantan, em São Paulo, destruindo a maior coleção de ofídios tropicais do mundo, isto é, mais de 82 mil recipientes com serpentes em formol, além de outros répteis e também aracnídeos peçonhentos, todos para estudo e pesquisa biomédica, como a produção de soros e vacinas por exemplo. O referido instituto foi fundado em 1901, uma vez que os sanitaristas Vital Brasil, o primeiro diretor da entidade, e Carlos Chagas combateram em 1898/1899, em Santos e outros portos, uma grave doença chamada:

- a. peste bubônica.
- b. febre amarela.
- c. doença de Chagas.
- d. varíola.

**71.** Uma segunda invasão de milhares de pequenos animais (dois centímetros) causou pânico aos habitantes da cidade chinesa de Nankin, pois acreditam na infundada teoria de que a migração desses animais sempre ocorre como um prenúncio de terremoto. Os animais em questão foram:

- a. rãs.
- b. escorpiões.
- c. baratas.
- d. lacraias.

**72.** Apesar de menos violentos continuam, anos a fio, os combates entre grupos de resistência contra as milícias de tribos árabes acusadas dos crimes contra grupos negros na região do deserto de Darfur. Segundo a ONU, quem arma as milícias árabes e patrocina crimes de guerra é o próprio governo da (do):

- a. Somália.
- b. Etiópia.
- c. República Centro-Africana.
- d. Sudão.

**73.** As sangrentas escaramuças continuam neste desgastado país. Um ataque da OTAN provocou a morte de 90 pessoas, das quais 40 eram civis. Dias depois, um atentado na capital Cabul, cuja autoria o Talibã assumiu, matou 17 pessoas e feriu outras 80. O atentado foi condenado pela missão da ONU no país e pelo presidente Hamid Karzai. Estamos falando de qual país?

- a. Irã.
- b. Paquistão.
- c. Turcomenistão.
- d. Afeganistão.

**74.** A guerra no país do teste anterior é alimentada pela produção de 93% da matéria-prima para a produção de uma droga obtida do ópio extraído da papoula, o que rende ao talibã US\$ 5 bilhões anuais, sua principal fonte de financiamento. A droga em questão é:

- a. a cocaína.
- b. a maconha.
- c. a heroína
- d. o ecstasy.

**75.** O Conselho de Segurança da Organização das Nações Unidas é o único órgão da ONU com poder de autorizar uma intervenção militar em um país. Ele é composto por dez membros rotativos (que mudam a cada dois anos) e cinco membros permanentes (as cinco potências atômicas signatárias do Tratado de Não-Proliferação Nuclear e vencedoras da Segunda Guerra Mundial). As cinco potências são as seguintes:

- a. Federação Russa, Reino Unido, Japão, Estados Unidos e México.
- b. Brasil, Federação Russa, Japão, Canadá e Áustria.
- c. Estados Unidos, China, França, Reino Unido e Federação Russa.
- d. Canadá, Áustria, Reino Unido, Vietnã e Costa Rica.
- e. Coreia do Sul, Estados Unidos, Japão, França e Burkina Fasso.